

#ESTUDOEMCASA

AULA N.º	2	DISCIPLINA: MATEMÁTICA
ANO(s)	1.º e 2.º	
APRENDIZAGENS ESSENCIAIS	<ul style="list-style-type: none"> <li>Recolher, organizar e representar dados qualitativos e quantitativos discretos, utilizando diferentes representações e interpretar a informação representada.</li> <li>Conceber e aplicar estratégias na resolução de problemas envolvendo a organização e tratamento de dados em contextos familiares variados.</li> </ul>	




Título/Tema(s) da Aula



A CASA DA MOSCA FOSCA - Números naturais | Tabela de frequências | Gráfico de pontos

Tarefas/ Atividades/ Desafios

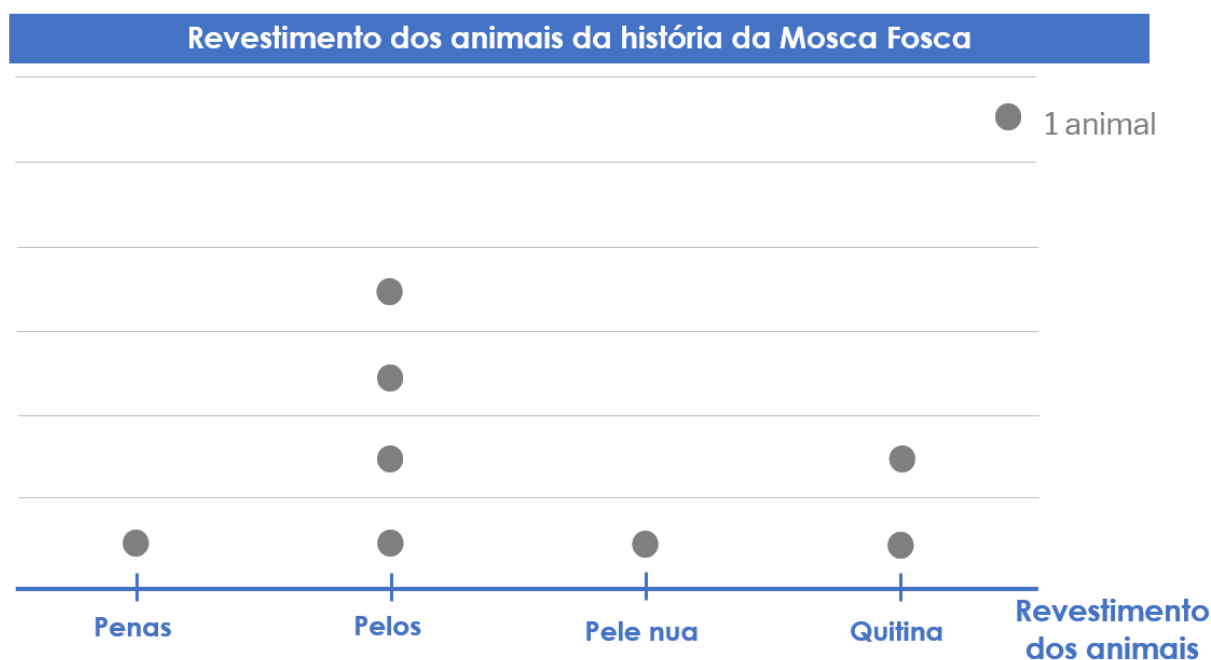
1. Observa o exemplo e completa as tabelas.

	1 coruja	2 corujas	3 corujas	4 corujas
n.º de patas	2	4	6	
	1 raposa	2 raposas	3 raposas	4 raposas
n.º de patas	4			
	1 mosca	2 moscas	3 moscas	4 moscas
n.º de patas				

2. Observa a tabela de frequências e completa de acordo com o exemplo.

Revestimento dos animais	Contagens	Frequências
<b>Penas</b>		<b>1</b>
<b>Pelos</b>		
<b>Pele nua</b>		
<b>Quitina</b>		

3. Observa o gráfico de pontos.



### 3.1. Responde às seguintes questões.

**a)** Quantos animais têm o corpo revestido por penas?

**b)** Quantos animais têm o corpo revestido por pelos?

**c)** Quantos animais têm o corpo revestido por quitina?

**d)** Quantos animais têm o corpo revestido por pele nua?

**e)** Existem mais animais com o corpo revestido por pelo ou por penas?

**f)** Quantos animais estão representados no gráfico?